



PEMERINTAH KOTA MAGELANG  
DINAS PENDIDIKAN  
SMP 12 MAGELANG

Jl. Soekarno Hatta ☎ ( 0293 ) 367527 Kota Magelang 56125 E-mail : smp12\_magelang@yahoo.co.id

---

UJIAN SEKOLAH  
TAHUN PELAJARAN 2006/2007

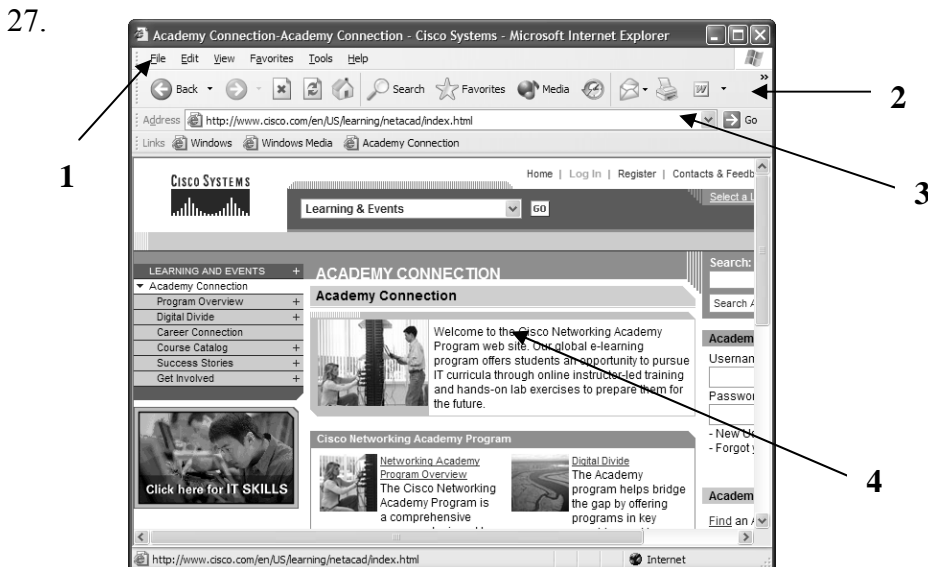
Mata Pelajaran : Teknologi Informasi & Komunikasi  
Kelas / Semester : IX ( Sembilan ) / 2 ( Dua )  
Hari / Tanggal : , Mei 2007.  
Waktu : (90 Menit)

---

**I. PILIH SATU JAWABAN YANG BENAR DARI SOAL – SOAL DIBAWAH INI :**

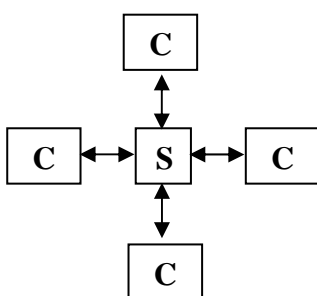
- Internet adalah singkatan dari dua kata, yaitu .....  
a. Inter dan networking    b. Inter dan netware    c. Inter dan netmedia    d. Inter dan netmodem
- Nama departemen Pertahanan Amerika pada tahun 1969 yang membuat jaringan komputer untuk internet adalah .....  
a. ARPAnet                      b. APRA                      c. UCLA                      d. ULCA
- Di bawah ini adalah keuntungan dalam menggunakan internet kecuali .....  
a. Komunikasi murah                      b. Sumber informasi  
c. Menghabiskan waktu                      d. Jangkauan yang takterbatas
- Domain yang digunakan untuk pendidikan adalah .....  
a. Com                      b. Edu                      c. Net                      d. Biz
- Perangkat yang digunakan untuk menghubungkan dengan ISP memanfaatkan saluran telepon adalah .....  
a. CDROM                      b. Floppy Disk                      c. Ethernet Card                      d. Modem
- Dalam internet dikenal istilah ISP yang merupakan akronim dari .....  
a. International service Provider                      b. Internet service provider  
c. Internet service protocol                      d.. International service protocol
- Fungsi tombol refresh pada web browser adalah .....  
a. Untuk membuka ulang halaman web yang sedang dibuka  
b. Untuk membuka halaman web selanjutnya  
c. Untuk kembali ke halaman sebelumnya  
d. Untuk memutuskan koneksi ke internet
- Chatting adalah istilah didunia internet untuk kegiatan  
a. Mengambil file                      b. Mengisi buku tamu  
c. Mengirim surat                      d. Berkomunikasi lewat internet
- Berikut ini situs situs yang menawarkan jasa search engine (mesin pencari) kecuali .....  
a. www. Yahoo.com                      b. www. geocities.com  
c. www. altavista.com                      d. www. google.com
- Jenis file di internet dapat disimpan pada media di bawah ini kecuali .....  
a. Hard disk                      b. CD                      c. Flash disk                      d. Monitor
- Icon history pada toolbar web browser digunakan untuk.....  
a. Membaca berita terbaru diinternet                      b. Melihat alamat web yang pernah diakses  
c. Membaca informasi sejarah diinternet                      d. Membuka setting jaringa pada web browser
- Download adalah istilah didunia internet untuk kegiatan .....  
a. Berkomunikasi melalui tulisan                      b. Mengisi buku tamu  
c. Mengambil file                      d. Mengirim file
- Istilah untuk mendapatkan eccount email baru adalah .....  
a. Sign Up                      b. Sign In                      c. Sign Out                      d. Log in
- Lampiran surat dalam email biasa disebut .....  
a. Attachment                      b. Bulk mail                      c. BCC                      d. CC
- Forward dalam email adalah pengertian untuk .....  
a. Membalas surat                      b. Mengapus surat                      c. Melampirkan surat                      d. Meneruskan surat
- Apabila kita akan mengetahui asal si pengirim email maka dapat dilihat pada menu .....  
a. To                      b. From                      c. Reply                      d. Forward

17. Jika akan mengirimkan email kembali pada si pengirim email tanpa harus menuliskan atau menyisipkan alamat emailnya dapat menggunakan menu .....
  - a. Forward
  - b. Send
  - c. Reply
  - d. Send message
18. Jika akan mencetak seluruh halaman email, maka urutan langkah yang benar adalah .....
  - a. File → print page
  - b. File → print → all
  - c. File → print → current page
  - d. File → Print → Print to file
19. Suatu proses dan cara pengiriman pesan atau gambar melalui internet disebut .....
  - a. Klient email
  - b. Email account
  - c. Email
  - d. Compose
20. Berikut ini adalah dampak negatif dari internet .....
  - a. Komunikasi murah
  - b. Sumber informasi besar
  - c. Keterbukaan tanpa sensor
  - d. Jangkauan yang tak terbatas
21. Untuk dapat menjelajahi internet perlu digunakan sebuah software browser kecuali .....
  - a. Internet explorer
  - b. Netscape navigator
  - c. Outlook
  - d. Opera
22. Kotak teks yang digunakan untuk menuliskan alamat internet yang akan dikunjungi disebut .....
  - a. Link
  - b. Menu
  - c. Status bar
  - d. Address bar
23. Penghubung ke alamat internet secara cepat, tanpa mengetik alamatnya yang dapat ditambah atau dikurangi disebut .....
  - a. Links
  - b. Address bar
  - c. Menu
  - d. Status bar
24. No dial up untuk telkom.net instant adalah .....
  - a. 0809-9-9999
  - b. 0809-8-9999
  - c. 0908-8-9999
  - d. 0908-9-9999
25. Peripheral yang berfungsi untuk mengkonversikan data digital ke data analog dari komputer pengguna ke komputer server melalui jalur telepon disebut .....
  - a. Pesawat telepon
  - b. Ethernet
  - c. Networking
  - d. Modem
26. Toolbar yang digunakan untuk menghentikan proses browsing pada internet explorer disebut .....
  - a. Home
  - b. Refresh
  - c. Back
  - d. Stop



Gambar. 1

- Pada gambar diatas, manakah yang disebut menu bar .....
- a. gambar no 1
  - b. Gambar no 2
  - c. Gambar no 3
  - d. Gambar no 4
28. Masih menggunakan gambar. 1 pada soal no 27, toolbar di tunjukkan pada no .....
    - a. gambar no 1
    - b. Gambar no 2
    - c. Gambar no 3
    - d. Gambar no 4
  29. Koneksi internet dengan dial up maupun LAN biasa menggunakan kabel jenis .....
    - a. Fiber optic
    - b. Coaxial
    - c. UTP
    - d. Thin Ethernet
  30. Sistem jaringan yang jangkauannya mencakup daerah geografis yang luas, seringkali mencakup sebuah negara bahkan benua adalah .....
    - a. LAN
    - b. WAN
    - c. Internet
    - d. MAN



**KETERANGAN :**

S = SERVER/PUSAT  
 WORKSTATION  
 C1, C2, C3, C4 =  
 CLIENT/NODE/TITIK



43. Perhatikan pernyataan berikut

1. Kegiatan pengiriman data dari komputer lokal ke komputer lainnya dalam sebuah jaringan.
2. Kegiatan pengambilan data dari komputer host ke komputer lokal dalam sebuah jaringan.
3. Kecepatan dan lebar saluran data pada sebuah komputer dalam sebuah jaringan.

Pernyataan yang benar tentang pengertian Up Load adalah .....

- a. Nomor 1            b. Nomor 2            c. Nomor 3            d. Salah semua.

44. Masih dengan pernyataan pada soal no 43, Pernyataan yang benar tentang bandwidth .....

- a. Salah semua            b. Nomor 1            c. Nomor 2            d. Nomor 3

45. Modem yang digunakan untuk menghubungkan ke internet di pasang di luar CPU adalah jenis

- a. Eksternal            b. Internal            c. NIC            d. Ethernet


46. Salah satu bagian yang tidak termasuk elemen toolbar web browser adalah .....

- a. Back            b. Stop            c. Address Bar            d. Reffres

47. Mesin pencari (search engine) yang paling padat informasi dan selalu di update adalah ....

- a. www.tpi.co.id            b. www.google.co.id            c. www.klikbca.com            d. www.sctv.com

48. Icon yang digunakan untuk mengulang proses loading / mengosongkan adalah .....



49. Web mail yang paling lengkap fasilitasnya adalah.....

- a. Singkawang.com            b. Yahoo.com            c. Telkom.net            d. Plasa.com

50. Proses pengambilan data atau file dari internet dinamakan .....

- a. Chatting            b. Browsing            c. Download            d. Sending



PEMERINTAH KOTA MAGELANG  
**DINAS PENDIDIKAN**  
**SMP 12 MAGELANG**

Jl. Soekarno Hatta ☎ ( 0293 ) 367527 Kota Magelang 56125 E-mail : smp12\_magelang@yahoo.co.id

---

**LEMBAR KUNCI JAWABAN UJIAN SEKOLAH MAPEL TIK KELAS IX**

**I. PILIHAN GANDA**

- |       |       |       |       |       |
|-------|-------|-------|-------|-------|
| 1. A  | 11. B | 21. C | 31. A | 41. A |
| 2. A  | 12. C | 22. D | 32. B | 42. B |
| 3. C  | 13. A | 23. A | 33. A | 43. A |
| 4. B  | 14. A | 24. B | 34. A | 44. D |
| 5. D  | 15. D | 25. D | 35. B | 45. A |
| 6. C  | 16. B | 26. D | 36. D | 46. C |
| 7. A  | 17. C | 27. A | 37. D | 47. B |
| 8. D  | 18. B | 28. B | 38. C | 48. D |
| 9. B  | 19. C | 29. C | 39. C | 49. B |
| 10. D | 20. D | 30. C | 40. B | 50. C |